


Урок по теме:

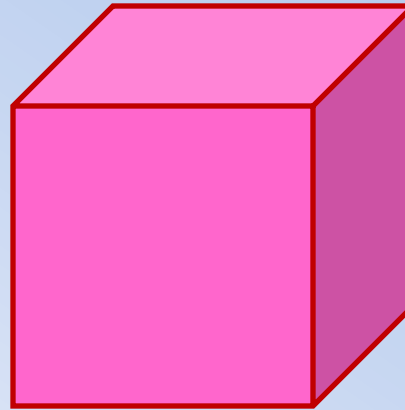
**«Объем прямоугольного
параллелепипеда»**

(математика 5 класс)


Набиуллина Наталья Анатольевна
МБОУ СОШ №27 г. Белгорода

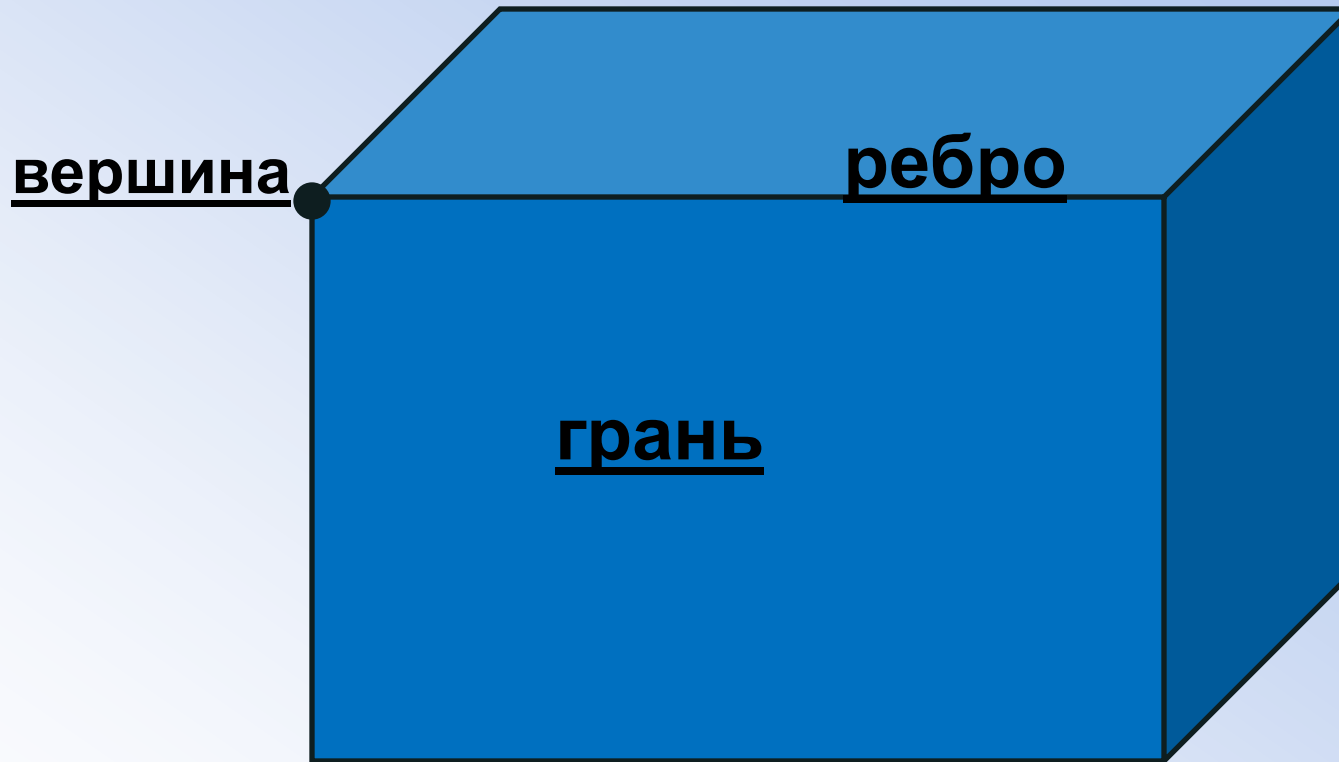


**Прямоугольный
параллелепипед**



Куб






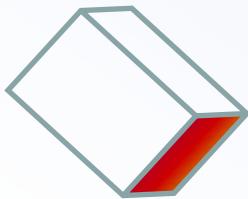
Количество граней – 6

Количество ребер – 12

Количество вершин – 8



Цель: научиться находить
объем прямоугольного
параллелепипеда и
использовать данную формулу
при решении различных задач



Разминка

2^3	8	 S=	$S=a^2$
3^2	9	 S=	$S=a \cdot b$
4^2	16	 S=	$S=a \cdot b : 2$
5^3	125	3 дм ² =	300 см ²
3^3	27	2 га =	200 а





OPEN.AZ

Практическая работа

***Мое настроение
после урока!***

